



**ROTEIRO DE ATIVIDADES COMPLEMENTARES DE ESTUDO –
COVID 19 - 19º ROTEIRO
ESCOLA MUNICIPAL MARIA DO CARMO CAMPOS**

PROFESSORAS: MEIRE, SILVANA PERÍODO: SRM MATUTINO E

VESPERTINO

**COMPONENTES CURRICULARES: LÍNGUA PORTUGUESA, MATEMÁTICA E
PSICOMOTRICIDADE**

PERÍODO DE REALIZAÇÃO: 05/07 A 09/07/2021

4º ANO / 5º ANO

NOME DO ALUNO: _____

Senhores pais e responsáveis

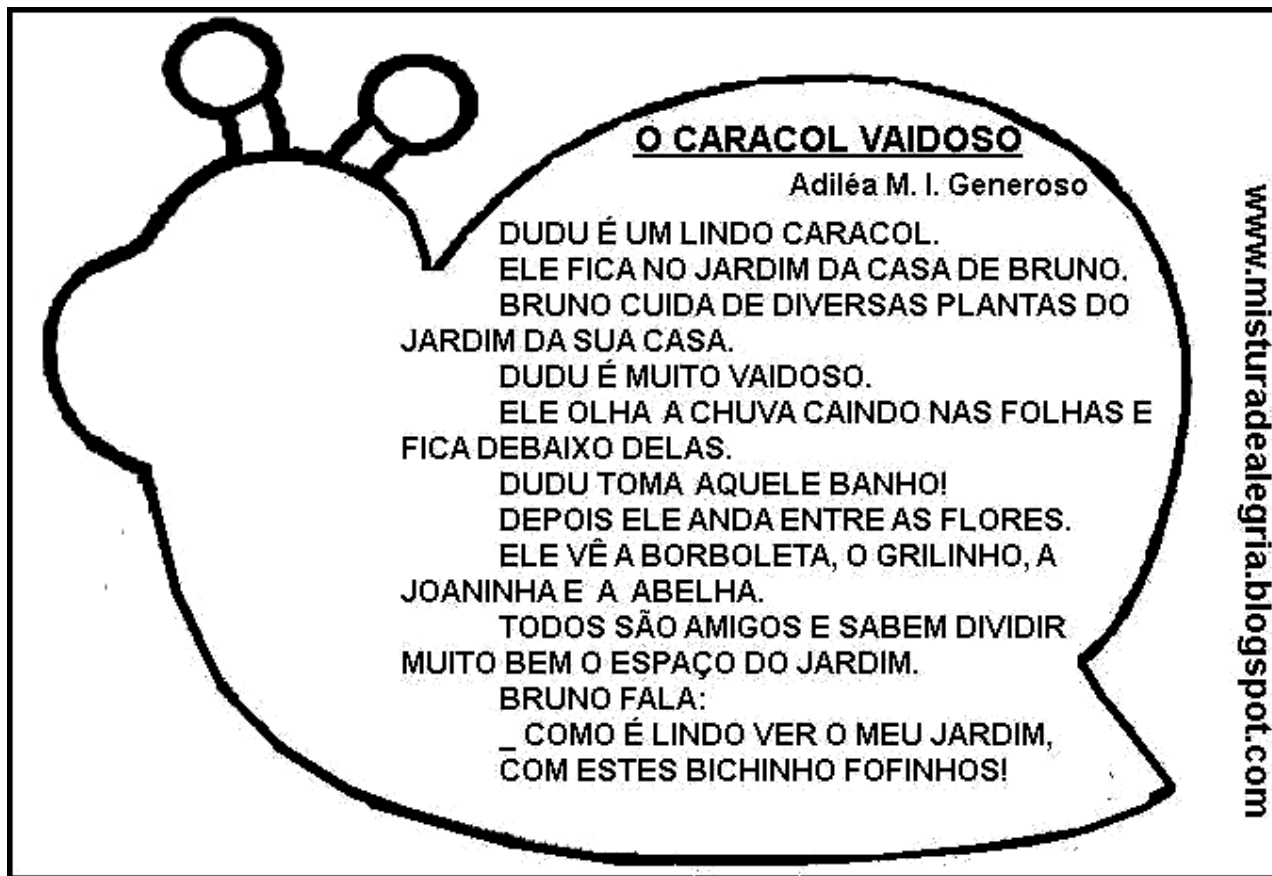

Seu filho deverá realizar todas as atividades e colocá-las no saquinho ou envelope. Ele terá o período de 05 de JULHO à 09 de JULHO para concluir essas atividades. Cuidem-se e cuidem de sua família. Em breve tudo estará bem.


Um abraço,
Professora

VÍDEO OU ÁUDIO DO PROFESSOR	Pelo watts no dia da aula.
O QUE VOCÊ VAI ESTUDAR:	<ul style="list-style-type: none"> ➤ <u>Língua Portuguesa</u>: Leitura e interpretação do texto, caça-palavras, ortografia, formação de frases, ordem dos acontecimentos, plural; ➤ <u>Matemática</u>: Composição dos números, ordem do número, multiplicação; ➤ <u>Psicomotricidade</u>: Coordenação motora fina para contornar o casco do caracol com barbante e pintar o desenho;
PARA QUE VAMOS ESTUDAR ESSES CONTEÚDOS?	<ul style="list-style-type: none"> - Ler e interpretar o texto, encontrar as palavras, ordenar os fatos, formar frases, passar para o plural; - Compor dos números, identificar o valor posicional, realizar as multiplicações; - Aprimorar a coordenação motora fina para contornar o casco do caracol com barbante e pintar o desenho;
COMO VAMOS ESTUDAR OS CONTEÚDOS?	<ul style="list-style-type: none"> - Selecione as atividades diárias conforme orientação da professora; - Faça a leitura das atividades selecionadas, em seguida desenvolva-as na mesma folha a qual ela está inserida. - Lembre-se de datar as páginas.
COMO VAMOS REGISTRAR O QUE APRENDEMOS?	<p>Organize seus estudos!!</p> <p>Vamos registrar nossos estudos através da leitura e interpretação do texto, caça palavras, escrita de palavras, material dourado, ordem crescente, antecessor/sucessor, contorno do caracol com barbante;</p> <p>Coloque a data em que irá realizar as atividades e coloque-as dentro do saquinho.</p>



LÍNGUA PORTUGUESA



1- COMPLETE:
 - TÍTULO DA LEITURA:.....

 - NOME DA AUTORA:.....

2- RESPONDA:
 - QUEM É DUDU?.....


 - COMO ELE É?.....

 - ONDE ELE FICA?.....

 - O QUE DUDU FAZ QUANDO CHOVE?.....

 - QUAIS OS BICHINHOS QUE VIVEM NO JARDIM?

www.misturadealegria.blogspot.com



**3- COPIE DA LEITURA PALAVRAS
COM:**

IM:..... PL:.....
 BR:..... FL:.....
 GR:..... NH:.....
 CH:..... LH:.....
 Ç:..... X:.....

4- FORME SENTENÇAS COM:
 BORBOLETA.....


 JARDIM.....

www.misturadealegria.blogspot.com

5- NUMERE OS PARÁGRAFOS DA LEITURA.
AO TODO SÃO..... PARÁGRAFOS.

6- NUMERE DE ACORDO COM OS PARÁGRAFOS:

() O BANHO DO CARACOL.
() A MORADIA DE DUDU.
() ANIMAIS QUE VIVEM NO JARDIM.
() DESCRIÇÃO DO PERSONAGEM.



7 - PASSE PARA O PLURAL:
O CARACOL VIVE NO JARDIM.
.....
A FLOR É AZUL. AS

www.misturadealegria.blogspot.com

8- CAÇA- PALAVRAS:

J	O	A	N	I	N	H	A	K	H	Y	B
A	F	H	O	P	C	T	B	S	J	G	O
R	G	Y	S	S	A	Y	R	D	A	S	R
D	H	U	D	F	R	U	Y	F	D	H	B
I	J	O	A	G	A	I	U	G	H	K	O
M	K	P	Z	H	C	A	J	H	T	Z	L
Y	Q	L	X	J	O	S	K	U	L	C	E
H	X	A	B	E	L	H	A	V	X	L	T
N	A	Ç	N	Z	B	F	X	S	Ç	N	A
M	K	A	E	V	R	Z	V	A	X	B	N
G	R	I	L	I	N	H	O	S	D	Q	E
K	A	B	T	A	B	V	C	Z	B	Y	R

BORBOLETA
CARACOL
GRILINHO
JOANINHA
ABELHA
JARDIM

www.misturadealegria.blogspot.com



MATEMÁTICA

1. Escreva com algarismos o número formado por:

- a) Sete dezenas e seis unidades? _____
- b) Oito centenas, três dezenas e duas unidades. _____
- c) Três unidades de milhar, duas centenas e seis unidades _____.
- d) Oito unidades de milhar, cinco centenas e três dezenas e uma unidade _____.
- e) Duas dezenas de milhar, três centenas, seis dezenas e nove unidades _____.
- f) Uma dezena de milhar, duas dezenas de milhar e sete centenas _____.

2. O carteiro identificou o número de uma residência: 2.560. Neste número, o algarismo 6 ocupa a ordem da:

- a) unidade simples.
- b) dezena simples.
- c) centena simples.
- d) unidade de milhar.

3. Resolva as multiplicações, troque os números pelas letras e descubra a palavra que deve completar a frase.

a) Que neste ano tenhamos bastante _____.

$2 \times 3 =$ _____

$2 \times 9 =$ _____

$3 \times 5 =$ _____

$5 \times 5 =$ _____

$2 \times 2 =$ _____

25	15	18	4	6
D	Ú	A	E	S

PSICOMOTRICIDADE

UTILIZANDO O BARBANTE VOCÊ VAI CONTORNAR O CASCO DO CARACOL E COLAR, DEPOIS PINTE O DESENHO.

FAZENDO ARTE! CARACOL

